

หน่วยการเรียนรู้ที่

2

ภูมิศาสตร์ประเทศไทย

กลุ่มสาระการเรียนรู้สังคมศึกษา ศาสนา และวัฒนธรรม

โรงเรียนนวมินทราชินูทิศ สตรีวิทยา พุทธมณฑล



ภาคเหนือ



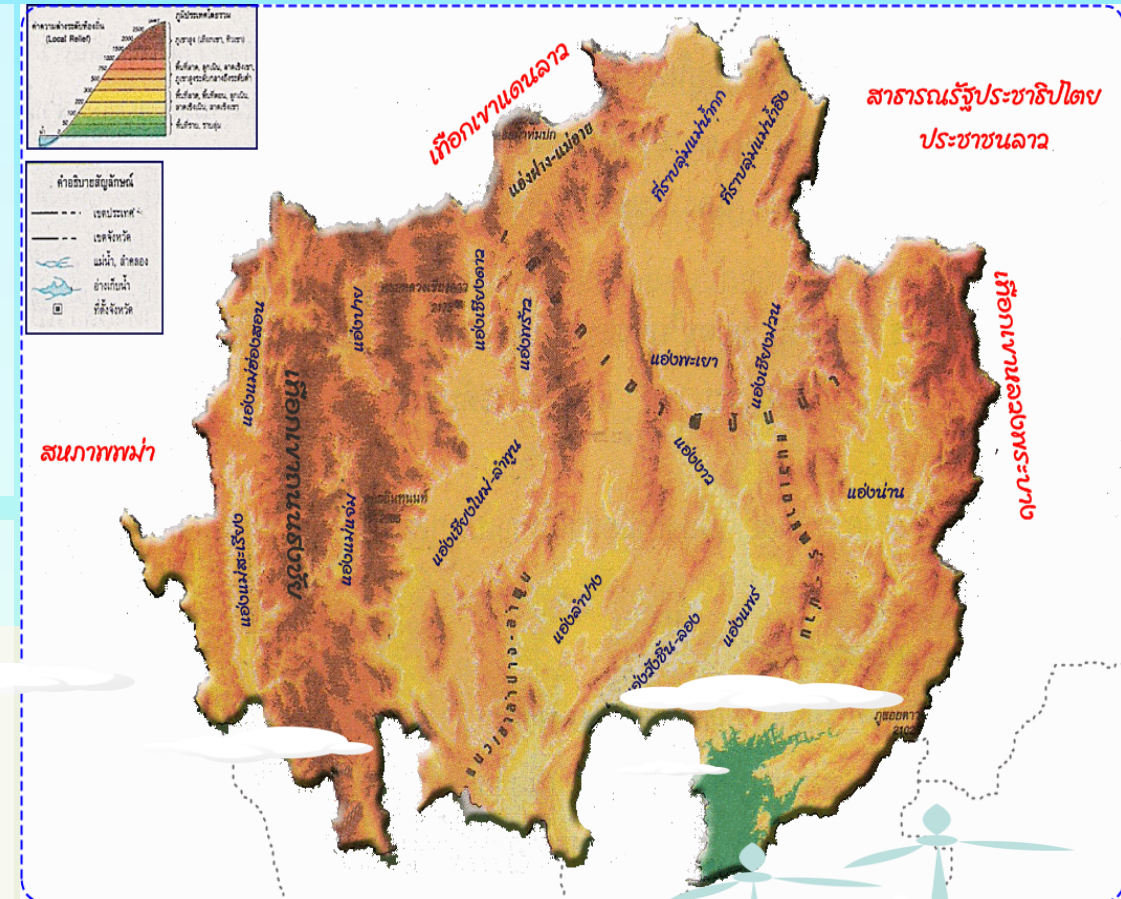
การแบ่งเขตภูมิลักษณะ

1. เขตทิวเขาและหุบเขาด้านตะวันตกของภาค

- ประกอบด้วยทิวเขาถนนธงชัย ต่อมาจากทิวเขาแดนลาว
- สลับด้วยหุบเขาและแอ่งที่ราบระหว่างภูเขา เช่น แอ่งแม่แจ่ม แอ่งบาย แอ่งแม่ฮ่องสอน
- แหม่นอหนา !!! คนต้องตั้งถิ่นฐานบริเวณแอ่งที่ราบ

2. เขตทิวเขา - สลับแอ่งที่ราบระหว่างภูเขา ตอนกลางของภาค

- ทิวเขาที่สำคัญ คือ ทิวเขาแดนลาวตอนเหนือ (ต้นกำเนิดแม่น้ำปิง)
- ทิวเขาพิปกหน้า (ต้นกำเนิดแม่น้ำวัง ยม อิง) (มีทิวเขาย่อยที่สำคัญคือ บุนตล)



ภาคเหนือ



ลักษณะภูมิอากาศ

1. อุณหภูมิ . มีอุณหภูมิแตกต่างกันมากๆ ในกลางวัน และกลางคืน
2. น้ำฝน . จะมีฝนตกชุกทางด้านภูเขาที่รับลมมรสุมตะวันตกเฉียงใต้และมีฝนจากพายุดีเปรสชันจากทะเลจีนใต้ น้ำฝนจึงมีมาก
3. ฤดูกาล . ฤดูฝน เริ่มกลางเดือนพฤษภาคม ถึงปลายเดือนกันยายน
ฤดูหนาว เริ่มกลางเดือนตุลาคม ถึงกุมภาพันธ์ อากาศจะหนาวมากๆ เพราะภูมิประเทศเป็นทิวเขาสูงสลับซับซ้อน
ฤดูร้อน เริ่มกลางเดือนกุมภาพันธ์ ไปจนถึงพฤษภาคมอากาศจะร้อนอบอ้าว





ข้อใดเป็นลักษณะภูมิประเทศของภาคเหนือได้ถูกต้องที่สุด

1. พื้นที่ส่วนใหญ่เป็นภูเขาและเทือกเขาทอดตัวในแนวเหนือใต้
2. พื้นที่ส่วนใหญ่เป็นภูเขาสลับเนินเขาทอดตัวในแนวเหนือใต้
3. พื้นที่ส่วนใหญ่เป็นที่ราบลุ่มแม่น้ำเป็นดินเหนียวสลับที่ราบดินตะกอน
4. พื้นที่ส่วนใหญ่เป็นภูเขา เนินเขา สลับเทือกเขา ทอดวางตัวในแนวเหนือใต้



ภาคตะวันออกเฉียงเหนือ

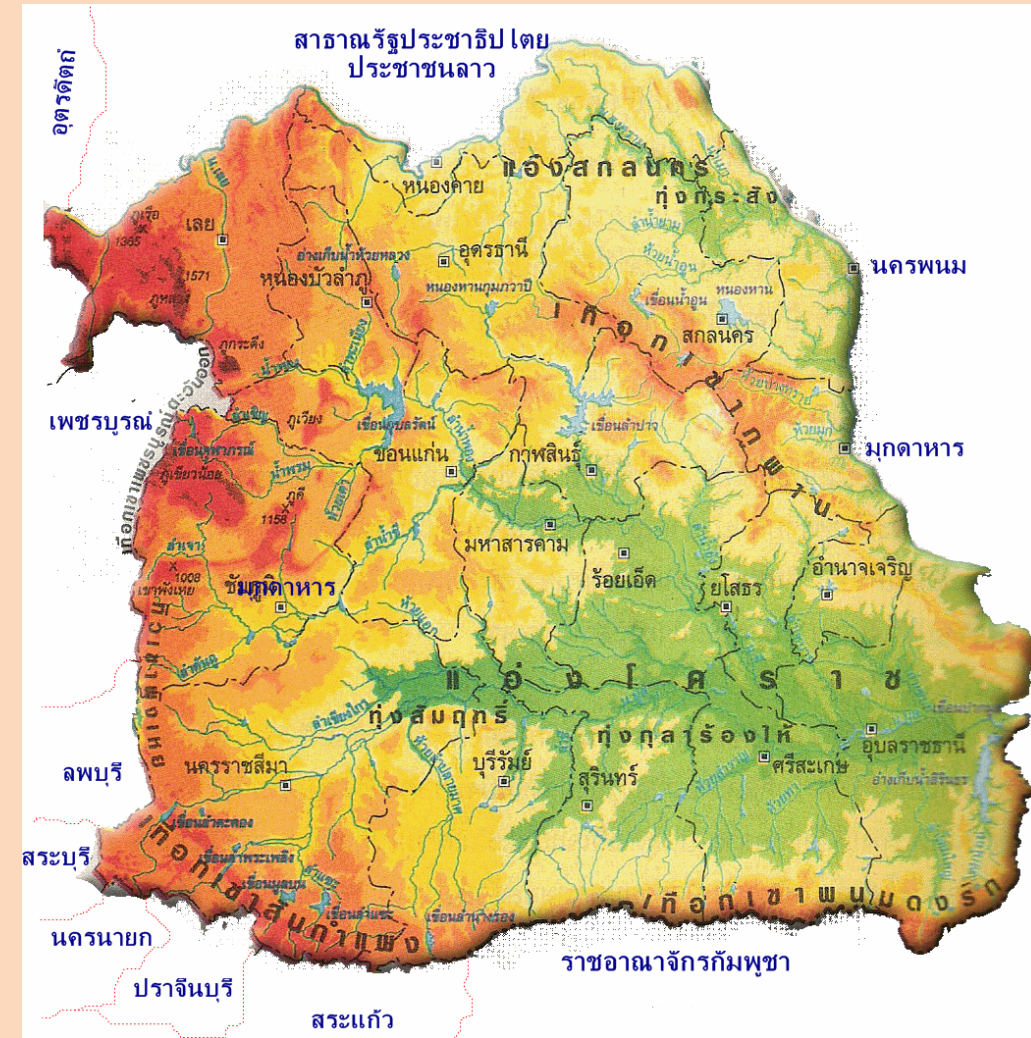


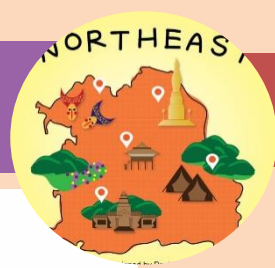
การแบ่งเขตภูมิลักษณะ

1. เขตแนวภูเขาขอบภูมิภาค คือ แนวภูเขาที่มีลักษณะเป็นรูปตัว L
 - ด้านตะวันตกของภาค มีทิวเขาเพชรบูรณ์ ทิวเขาพังเหย (ดงพญาเย็น) แยกที่ราบสูงโคราชออกจากภาคกลาง
 - ด้านทิศใต้ของภาค มีทิวเขาสันกำแพง ทิวเขาพนมดงรัก แยกที่ราบสูงโคราชออกจากที่ราบต่ำกัมพูชา

*** ด้วยเหตุที่มีแนวทิวเขา 2 ด้าน ยกตัวขึ้นอย่างชัดเจน คือ มีผาชัน หรือผาตั้ง มองเห็นขอบชัดเจนจึงจัดเป็น ที่ราบสูงแห่งเดียวในประเทศไทย

*** แต่หากดูจากระดับความสูงแล้ว ที่ราบสูงโคราช ไม่จัดเป็นที่ราบสูงแท้จริง เพราะ สูงเพียง 152 – 181 เมตรเท่านั้น (ที่ราบสูงแท้จริงต้องสูง 300 เมตรขึ้นไป)






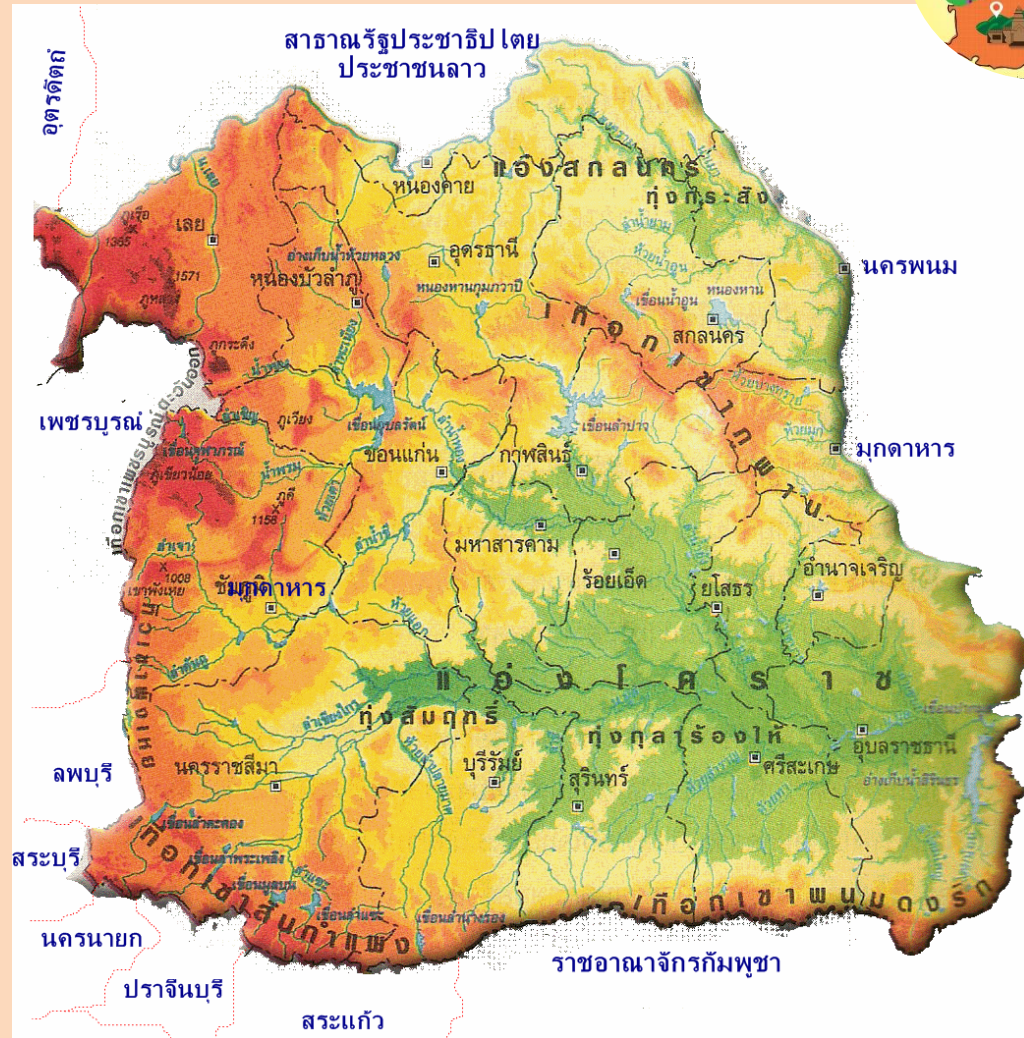
2. เขตแนวภูเขาตอนกลางของภูมิภาค

- คือ ทิวเขาภูพาน ที่วางตัวในแนวตะวันออกเฉียงใต้ พาดยาวไปทางตะวันตกเฉียงเหนือ ทำหน้าที่แบ่งภาคตะวันออกเฉียงเหนือเป็น 2 ส่วน

1. แอ่งโคราช อยู่ทางตอนใต้

2. แอ่งสกลนคร อยู่ทางตอนเหนือ บริเวณนี้ได้รับอิทธิพลจากทิวเขาภูพานเต็มที่ เพราะ เมื่อพายุดีเปรสชัน ที่มาจากทะเลจีนใต้ เข้ามาทางประเทศลาว มาปะทะกับทิวเขาภูพาน ทำให้พื้นที่หน้าเขามีปริมาณฝนมาก เช่น จังหวัดนครพนม

- แม่น้ำสำคัญที่ไหลผ่านบริเวณนี้คือ แม่น้ำสงคราม





3. เขตที่ราบลุ่มแม่น้ำขนาดใหญ่


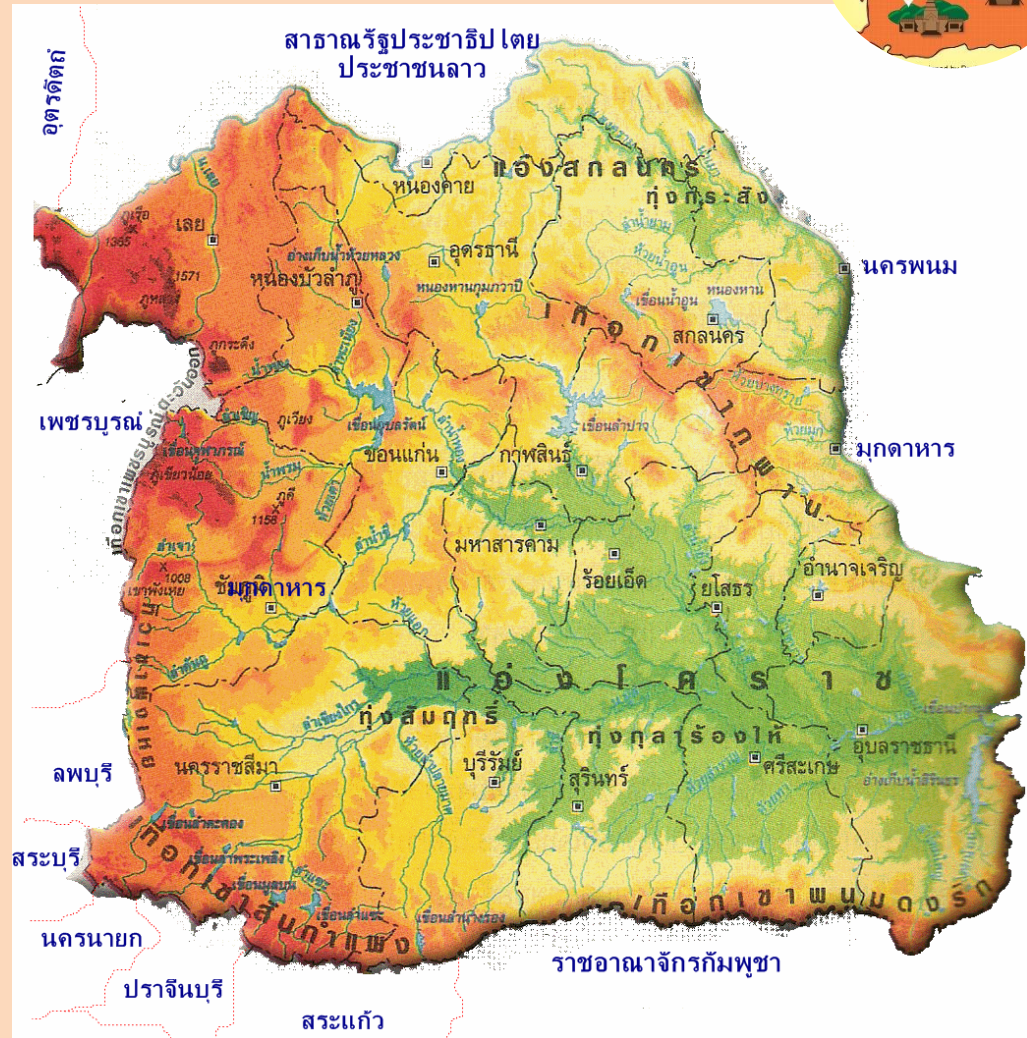
- เป็นแอ่งขนาดใหญ่ของภาค เรียกว่า “แอ่งโคราช”
- มีลักษณะภูมิประเทศ แบบโคกสลับแอ่ง
- แม่น้ำสำคัญที่ไหลผ่าน คือ

1. แม่น้ำมูล ผ่านจังหวัดขอนแก่น มหาสารคาม ร้อยเอ็ด
2. แม่น้ำชี ผ่านจังหวัดนครราชสีมา บุรีรัมย์ สุรินทร์ ศรีสะเกษ

* มักพบลักษณะภูมิประเทศแบบ “กุด” หรือทะเลสาบรูปแอก *

เป็นแหล่งปลูกข้าวที่ใหญ่ที่สุดของประเทศ บริเวณ หุบภูลาร่องไห่ ครอบคลุม 5

จังหวัด คือ ส. ส. มาเป็น ร้อย ยะ
สุรินทร์ ศรีสะเกษ มหาสารคาม ร้อยเอ็ด ยโสธร





3. เขตที่ราบลุ่มแม่น้ำขนาดใหญ่

- เป็นแอ่งขนาดใหญ่ของภาค เรียกว่า “แอ่งโคราช”
- มีลักษณะภูมิประเทศ แบบโคกสลับแอ่ง
- แม่น้ำสำคัญที่ไหลผ่าน คือ


1. แม่น้ำมูล ผ่านจังหวัดขอนแก่น มหาสารคาม ร้อยเอ็ด
2. แม่น้ำชี ผ่านจังหวัดนครราชสีมา บุรีรัมย์ สุรินทร์ ศรีสะเกษ

* มักพบลักษณะภูมิประเทศแบบ “กุด” หรือทะเลสาบรูปแอก *

เป็นแหล่งปลูกข้าวที่ใหญ่ที่สุดของประเทศ บริเวณทุ่งกุลาร้องไห้ ครอบคลุม 5

จังหวัด คือ ส. ส. มาเป็น ร้อย ยะ
สุรินทร์ ศรีสะเกษ มหาสารคาม ร้อยเอ็ด ยโสธร





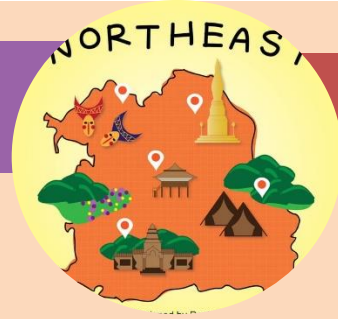
1. โครงสร้างเป็นดินทราย
2. ในชั้นหิน มีชั้นเกลือหินแทรกอยู่ด้วย ทำให้น้ำบาดาลเป็นน้ำกร่อย และเค็ม
3. สร้างเขื่อนขนาดใหญ่ได้น้อย เพราะไม่มีหุบเขา
4. ป่าไม้ถูกทำลายไปมาก ต้นน้ำลำธารกักเก็บน้ำไม่ได้
5. เทือกเขาบังลมมรสุม ทำให้เกิดเขตเงาฝน

เขตเงาฝน จากเทือกเขาเพชรบูรณ์ + ทิวเขาพังเหย

แล้ง	เลย
ข้าม	ขอนแก่น
ชาติ	ชัยภูมิ
คะ	โคราช (นครราชสีมา)

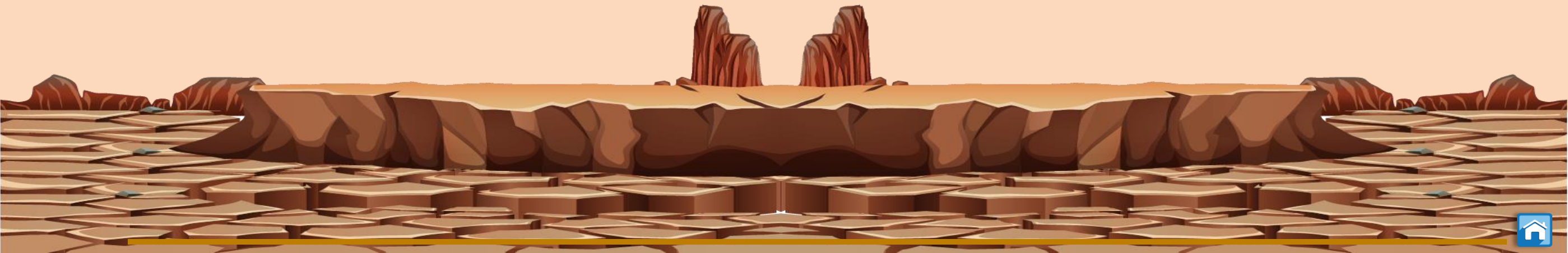
เขตเงาฝน จากเทือกเขาสันกำแพง + ดงพญาเย็น

บุ	บุรีรัมย์
สุ	สุรินทร์
ศรี	ศรีสะเกษ
บน	อุบลราชธานี



ข้อใดไม่ใช่สาเหตุที่ภาคตะวันออกเฉียงเหนือของประเทศไทยแห้งแล้ง

1. พื้นดินไม่สามารถอุ้มน้ำไว้ได้
2. ปริมาณน้ำฝนที่ตกมีจำนวนน้อย
3. การวางตัวของเทือกเขาบังแนวลมฝน
4. ลักษณะโครงสร้างทางธรณีวิทยาเป็นหินทราย



ภาคกลาง



การแบ่งเขตภูมิลักษณะ

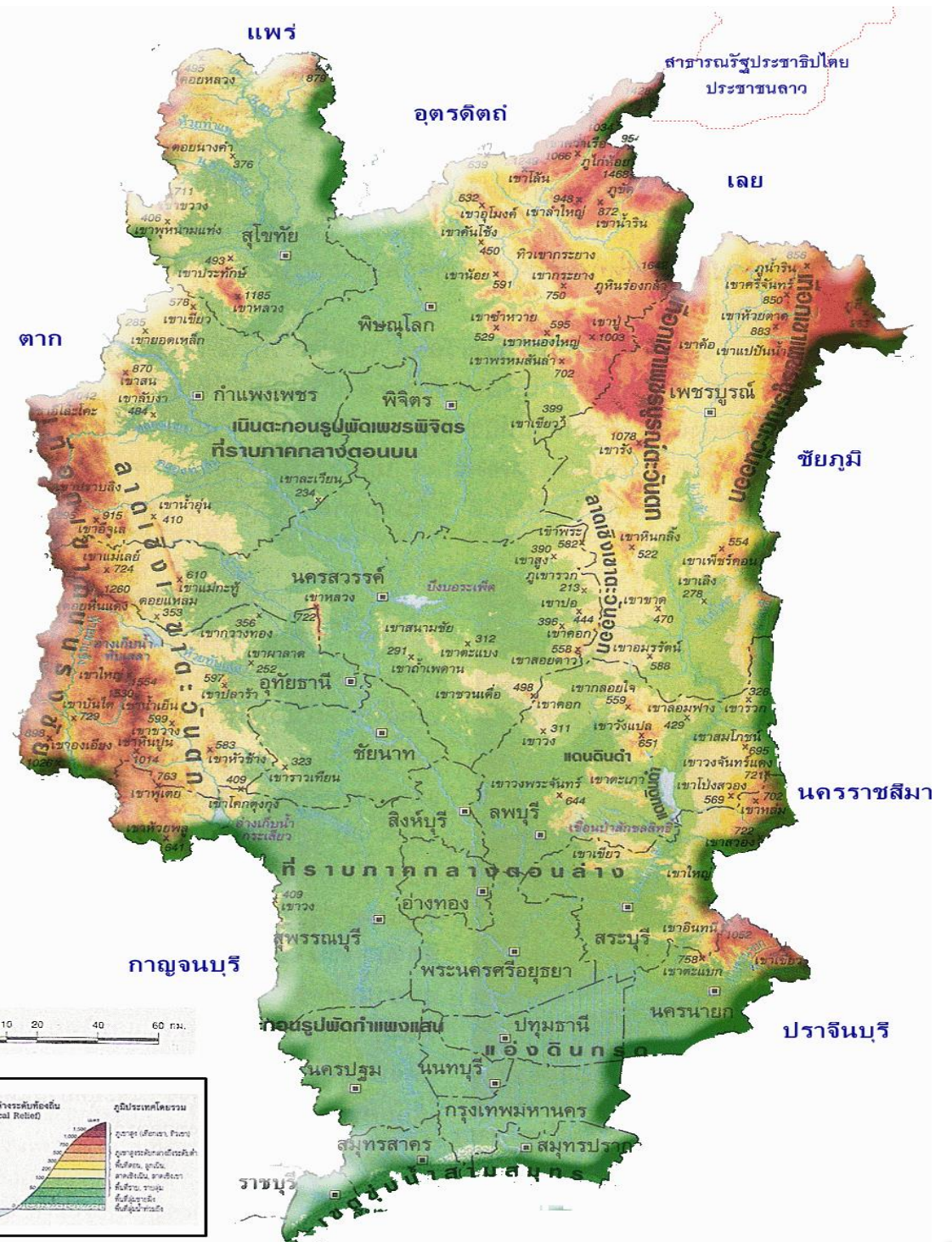
1. เขตภูเขาต่ำวันออกของภาค

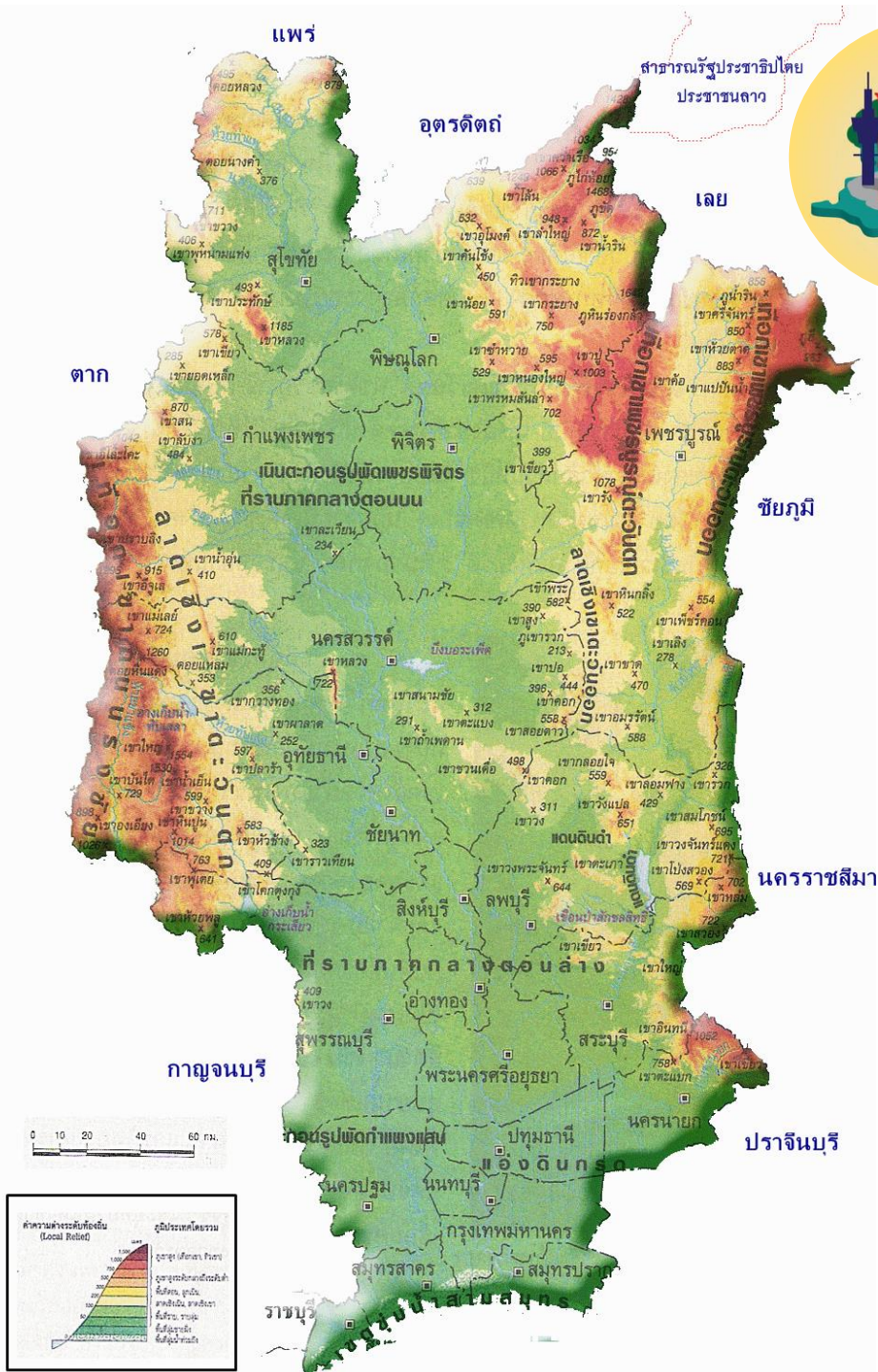
- ครอบคลุม

1. ทิวเขาเพชรบูรณ์ตะวันตกทั้งหมดและ เพชรบูรณ์ตะวันออกบางส่วน ต้นกำเนิดแม่น้ำป่าสัก

2. ดงพญาเย็น เป็นภูเขานินปุ่น จึงเป็นแหล่งอุตสาหกรรมซีเมนต์ ในสระบุรีและนครนายก

- บริเวณจังหวัดเพชรบูรณ์ พิษณุโลก ลพบุรี สระบุรี เป็นเขตที่สูงตอนกลางของประเทศไทย





2. เขตภูเขาต่ำวันตกของภาค


- ครอบคลุมทิวเขาถนนธงชัย ต้นกำเนิดแม่น้ำสะแกกรัง
- บริเวณจังหวัดกำแพงเพชร นครสวรรค์ อุทัยธานี สุพรรณบุรี

1. ภูเขาบางลูกในเขตนครสวรรค์และอุทัยธานี

แหล่งอุตสาหกรรมเหมืองแร่

2. ภูเขาบางลูกในเขตกำแพงเพชรแหล่งอุตสาหกรรมปูนและหินอ่อน

- แหล่งปลูกพืชไร่ที่สำคัญ เช่น อ้อย มันสำปะหลัง ข้าวโพด ข้าวฟ่าง ทานตะวัน สับปะรด





3. เขตที่ราบภาคกลางตอนบน

- ตั้งแต่จังหวัดสุโขทัย พิษณุโลก กำแพงเพชร พิจิตร และนครสวรรค์
- ลักษณะภูมิประเทศเป็นที่ราบลุ่มแม่น้ำ และที่ราบลูกฟูก (เกิดจากการกัดเซาะของแม่น้ำ)
- แม่น้ำที่ไหลผ่านคือ แม่น้ำป่าสัก แม่น้ำป่าสัก ยม น่าน


1. แม่น้ำป่าสักมารวมกับแม่น้ำป่าสัก ตอนท้ายเขื่อนภูมิพล ที่จังหวัดตาก

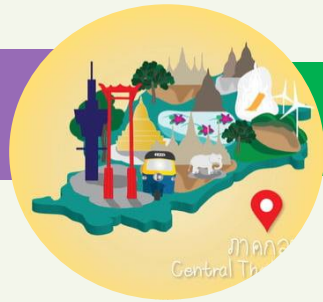
2. แม่น้ำยมมารวมกับแม่น้ำน่าน ที่อำเภอชุมแสง จังหวัดนครสวรรค์

จากนั้น แม่น้ำป่าสัก และแม่น้ำน่าน จึงไหลมารวมกัน ที่ปากน้ำโพ จังหวัดนครสวรรค์ กลายเป็น แม่น้ำเจ้าพระยา

4. เขตที่ดอนเขาโดดตอนกลาง

- ที่ดอนวางตัวตัดผ่านตามขวาง บริเวณจังหวัดนครสวรรค์
- แบ่งภาคกลางออกเป็นตอนบน และตอนล่าง
- เป็นภูเขาเล็กๆ ไม่สูงมาก





5. เขตที่ราบภาคกลางตอนล่าง

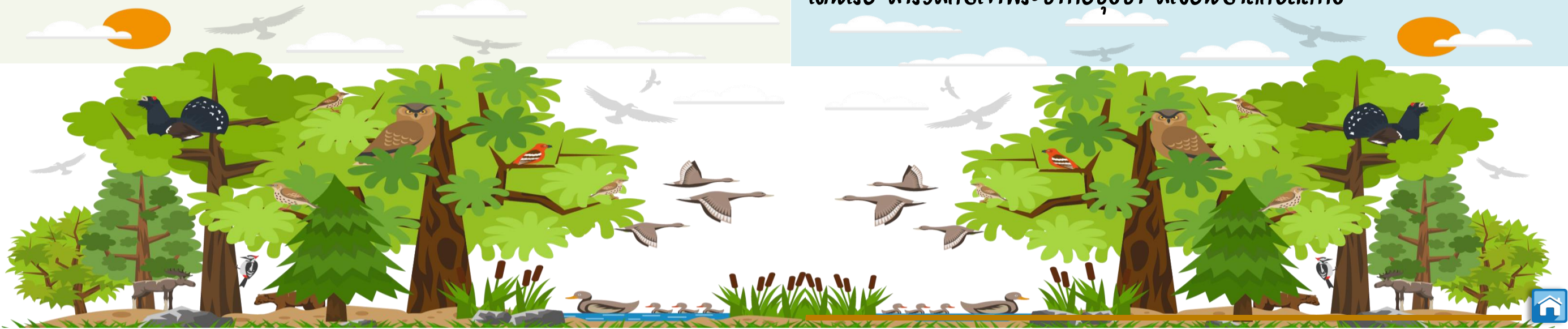
- ตั้งแต่จังหวัดอุทัยธานีลงมา จนถึงชายฝั่งอ่าวไทย
- ลักษณะภูมิประเทศ ที่ราบดินดอน สามเหลี่ยมปากแม่น้ำ ปากแม่น้ำ

เป็นสันดอนต้องขุดลอกทุกปี

- เป็นดินอุ้มน้ำได้ดี จึงเหมาะสมต่อการทำนา ปลูกข้าวเป็นอย่างดี
- มีแม่น้ำไหลผ่าน คือ แม่น้ำเจ้าพระยา

และมีสาขาของแม่น้ำ คือ


1. แม่น้ำท่าจีน แยกออกจากเจ้าพระยาที่ชัยนาท เรียกว่า แม่น้ำมะขามเฒ่า ผ่านสุพรรณบุรี เรียก แม่น้ำสุพรรณบุรี ผ่านนครปฐม เรียก แม่น้ำนครชัยศรี ทำยสุดผ่านสมุทรสงครามและไหลออกทะเลอ่าวไทย เรียกว่า ท่าจีน
2. แม่น้ำลพบุรี ต่อมาไปบรรจบกับแม่น้ำป่าสักที่อยุธยา
3. แม่น้ำน้อย
4. แม่น้ำป่าสัก ต้นกำเนิดจากทิวเขาเพชรบูรณ์ มีเกาะแก่งมาก ไม่สะดวกในการเดินเรือ มารวมกับเจ้าพระยาที่อยุธยา มีเขื่อนป่าสักชลสิทธิ์





ข้อใดแสดงว่าแม่น้ำเจ้าพระยายังมีการทับถมของตะกอนอยู่ตลอดเวลา

1. เกิดสันดอนปากแม่น้ำ
2. เกิดการกัดเซาะบริเวณปากแม่น้ำ
3. น้ำมีสีขุ่นและไหลแรง
4. น้ำท่วมบริเวณที่ลุ่มชายฝั่งทะเล





1. เขตภูเขาสูง เช่น

- ทิวเขาบรรทัด ต้นกำเนิดแม่น้ำเมืองตราด
วางตัวขวางทิศทางลมมรสุมตะวันตกเฉียงใต้
ฝนจึงตกหน้าเขามาก คือ จันทบุรีและตราด
- ทิวเขาชันกำแพง ต้นกำเนิดแม่น้ำบางปะกง
- ทิวเขาสอยดาว ต้นกำเนิดแม่น้ำจันทบุรี
- ทิวเขาจันทบุรี ตอนกลางของภาค มีทั้งหินแกรนิต และหินบะซอลต์

จึงเป็นแหล่งแร่รัตนชาติในเขตจังหวัดจันทบุรี





2. เขตที่ราบ

- “ที่ราบฉนวนไทย” อยู่ทางตอนเหนือของภาค ต่อเนื่องกับที่ราบลุ่มแม่น้ำเจ้าพระยาของภาคกลางยาวต่อเนื่องไปจนถึงเขตประเทศกัมพูชา
- อยู่ระหว่างทิวเขาจันทบุรี กับสันกำแพง ในเขตจังหวัดปราจีนบุรี และสระแก้ว
- “ที่ราบลุ่มแม่น้ำบางปะกง” จะพบลักษณะของ ทะเลสาบรูปแฉก
- บริเวณตอนใต้ของจังหวัดจันทบุรี
- บริเวณเขตที่ราบนี้ ดินมีความอุดมสมบูรณ์ จึงเป็นแหล่งเกษตรกรรม





3. เขตชายฝั่ง

- ชายฝั่งแบบยกตัว มีอ่าว เกาะ เป็นที่ตั้งของเขตเศรษฐกิจ

จำนวนมาก

- อ่าว เหมาะสำหรับการสร้างท่าเรือน้ำลึก เพราะมีเกาะขวางกั้น

คลื่นลม เช่น อ่าวสัตหีบ อ่าวพัทยา อ่าวอุดม อ่าวบางแสน

- แลลม เช่น แลลมสารพัดพิษ แลลมฉับ
- เกาะ

4. เขตที่สูง ที่ดอน และโคกโนน

- บริเวณจังหวัดฉะเชิงเทราและสระแก้ว

ในส่วนที่เป็นเชิงเขามีความชันในดินน้อย
เหมาะปลูกพืชไร่ เลี้ยงสัตว์





ที่ราบฉนวนไทยในภาคตะวันออก หมายถึง พื้นที่ตามความหมายในข้อใด

1. เป็นพื้นที่ที่ราบสูงคล้ายกับภาคตะวันออกเฉียงเหนือ
2. ที่ราบลุ่มแม่น้ำและเป็นแหล่งเพาะปลูกสำคัญของภาคตะวันออก
3. พื้นที่ราบของภาคตะวันออกที่ต่อเนื่องเข้ากับพื้นที่ราบของประเทศเพื่อนบ้าน
4. เป็นที่ที่มีภูเขาสูงขวางกั้นเป็นพรมแดนระหว่างภาคตะวันออกกับประเทศเพื่อนบ้าน





1. เขตทิวเขาถนนธงชัยตอนล่าง


- เป็นแนวต่อเนื่องมาจากจังหวัดเชียงใหม่ มาจังหวัดตาก ไปจนถึงกาญจนบุรีตอนบน
- ขวางกั้นลมมรสุม ทำให้หลังเขาแห้งแล้ง

*****TIPS** ท่อง เขตเงาฝน ตาก กระ ทรัพย์ย

 ตาก กาญจนบุรี ราชบุรี

2. เขตทิวเขาตะนาวศรี

- ขนานกับแม่น้ำแควน้อย ซึ่งปรากฏลักษณะเป็นหุบเขา ที่เกิดจากรอยเลื่อนของเปลือกโลก คือ รอยเลื่อนด่านพระเจดีย์สามองค์
- ทำให้เส้นทางไหลของแม่น้ำแควน้อย สองฝั่งลำน้ำจะเป็นที่สูงชัน เกือบไม่มีที่ราบชายฝั่งเลย จึงเหมาะต่อการสร้างเขื่อน
- ต้นกำเนิดของแม่น้ำเพชรบุรี
- พบหินอัคนี ประเภทหินแกรนิต และหินบะซอลต์ จำนวนมาก





3. เขตที่ราบและที่ราบลุ่ม


– คือบริเวณที่อยู่ระหว่างเทือกเขาต่างๆ จะเป็นที่ราบลุ่มแม่น้ำสลับอยู่ แคบๆ เช่น

1. ที่ราบลุ่มแม่น้ำแม่กลอง – เป็นที่ราบที่มีขนาดใหญ่ที่สุดของภาค เป็นเขตเกษตรกรรมที่อุดมสมบูรณ์

- มีลักษณะเป็นที่ราบขั้นบันได
- เกิดจากแม่น้ำแควใหญ่ และแควน้อย ไหลมาบรรจบกัน
- เริ่มจากกาญจนบุรี ไหลผ่านราชบุรี ไปออกสู่ทะเลอ่าวไทยที่สมุทรสงคราม

2. ที่ราบลุ่มแม่น้ำเพชรบุรี

- ครอบคลุมพื้นที่ส่วนใหญ่ของจังหวัดเพชรบุรี
- ส่วนใหญ่เป็นพื้นที่ทำสวน เช่น สวนมะละกอ สวนมะพร้าว






4. เขตที่ดอนเขาโดด

- พื้นที่ด้านตะวันออกของทิวเขาทั้งหมด คือ สูงน้อยกว่าทิวเขา เรียกรีกอย่างว่า ที่ลาดเชิงเขาเพราะฉะนั้น บริเวณนี้จะพบ เนินตะกอนรูปพัด
- เป็นพื้นที่ทำไร่ เช่น อ้อย มันสำปะหลัง ข้าวโพด สับปะรด และเลี้ยงสัตว์

5. เขตชายฝั่งเพชรบุรี – ประจวบคีรีขันธ์


- เป็นที่ราบชายฝั่งทะเลแบบยกตัว
- เริ่มตั้งแต่ อ.บ้านแหลม จ. เพชรบุรี ไปถึง อ.บางสะพานน้อย จ. ประจวบคีรีขันธ์
- มีลักษณะเป็นหาดโคลน หรือทรายปนโคลน
- ที่เป็นหาดทราย ที่สำคัญ เช่น หาดชะอำ หาดหัวหิน หาดอ่าวมะนาว





จากการวางตัวของทิวเขาถนนธงชัยตอนล่างส่งผลอย่างไรต่อภาคตะวันตก

1. เป็นแหล่งแร่ที่สำคัญของภาค
2. ด้านหลังเขาแห้งแล้งเป็นเขตเงาฝน
3. ปรากฏภูเขาหินปูนอย่างกว้างขวาง
4. เป็นสถานที่ท่องเที่ยวที่สำคัญ





1. เขตแนวทิวเขาสูง

1.1 ทิวเขาภูเก็ต


- ต่อเนื่องมาจากทิวเขาตะนาวศรี
- ส่วนใหญ่เป็นหินแกรนิต

1.2 ทิวเขานครศรีธรรมราช

- ยาวที่สุดในภาคใต้ เริ่มต้นมาตั้งแต่เกาะเต่า เกาะพะงัน สมุย เกาะพะงัน และจมหายไปที่ทะเล มาโผล่อีกที่ในสุราษฎร์ธานี

1.3 ทิวเขาสันกาลาคีรี

- พรมแดนระหว่างไทยกับมาเลเซีย
- ต้นกำเนิดของแม่น้ำโก-ลก





2. บริเวณพื้นที่สูงตอนกลาง

- เป็นที่เขาดอย ภูเขาเตี้ย ลาดเชิงเขา
- อยู่ระหว่างทิวเขาภูเก็ต กับทิวเขานครศรีธรรมราช
- แม่น้ำที่ไหลผ่าน เช่น

1. แม่น้ำตาปี ใหญ่และยาวที่สุดในภาคปากแม่น้ำพบโคลนตมที่ทับถมกันเป็นสันดอนกว้างขวางมาก

2. แม่น้ำตรัง เดิมเรียกชื่อว่า แม่น้ำท่าจีนปากแม่น้ำเป็นชายฝั่งแบบจมตัว คล้ายคลึงกับปากแม่น้ำกระบูรี

3. แม่น้ำคีรีรัฐ เป็นแม่น้ำสาขาของแม่น้ำตาปี เป็นพื้นที่ปลูกยางพารา และปาล์มน้ำมัน





เหมาะจะไปท่องเที่ยวช่วงเดือน
ก.พ – พ.ค.

3. ชายฝั่งทะเลตะวันออก (อ่าวไทย)

- ครอบคลุมพื้นที่ตั้งแต่ ชุมพร ไปจนถึงนราธิวาส
- มีที่ราบชายฝั่งกว้างกว่าฝั่งตะวันตก เหมาะแก่การตั้งถิ่นฐานและเพาะปลูก
- มีเกาะ น้อยกว่า ฝั่งตะวันตก
- พบลักษณะภูมิประเทศแบบ สันตอยจะงอย ที่แหลมตะลุมพุก
- ทะเลสาบน้ำเค็มและน้ำกร่อยที่ใหญ่ที่สุดในประเทศ คือ ทะเลสาบสงขลา

*** เคยเป็นอ่าวมาก่อน ต่อมาถูกสันดอนทรายมาปิด มีช่องเล็กๆ ให้น้ำในอ่าวไหลออกสู่ทะเลได้เรียกว่า ลากูน ได้แก่

1. ทะเลน้อย เป็นทะเลสาบน้ำจืด อยู่ในเขต จังหวัดพัทลุง
2. ทะเลหลวง เป็นทะเลสาบน้ำจืดที่ใหญ่ที่สุด มีเกาะสำคัญ คือ เกาะหมาก
3. ทะเลสาบสงขลา เป็นทะเลสาบน้ำเค็ม มีเกาะที่ใหญ่ที่สุด คือ เกาะยอ




เหมาะจะไปท่องเที่ยวช่วงเดือน

ต.ค. – ก.พ.

4. ชายฝั่งทะเลด้านตะวันตก (อันดามัน)

- ตั้งแต่จังหวัดระนอง ไปจนถึง สตูล
- ชายฝั่งเป็นที่ราบแคบๆ น้ำลึก ตามชายฝั่งพบ ป่าชายเลน
- แต่มีเกาะเป็นจำนวนมาก เช่น เกาะสิมิลัน เกาะพีพี หมู่เกาะสุรินทร์
- น้ำลึก ปะการัง จะสวยกว่า
- แม่น้ำสำคัญทางฝั่งนี้ เช่น แม่น้ำกระบุรี แม่น้ำพังงา แม่น้ำตรัง





ชายฝั่งทะเลของไทยมีลักษณะตรงกับข้อใด

1. ชายฝั่งอ่าวไทยและชายฝั่งอันดามันเป็นชายฝั่งยกตัว
2. ชายฝั่งอ่าวไทยและชายฝั่งอันดามันเป็นชายฝั่งทรุดตัว
3. ชายฝั่งอ่าวไทยเป็นชายฝั่งยกตัว ชายฝั่งอันดามันเป็นชายฝั่งทรุดตัว
4. ชายฝั่งอ่าวไทยเป็นชายฝั่งทรุดตัว และชายฝั่งอันดามันเป็นชายฝั่งยกตัว

