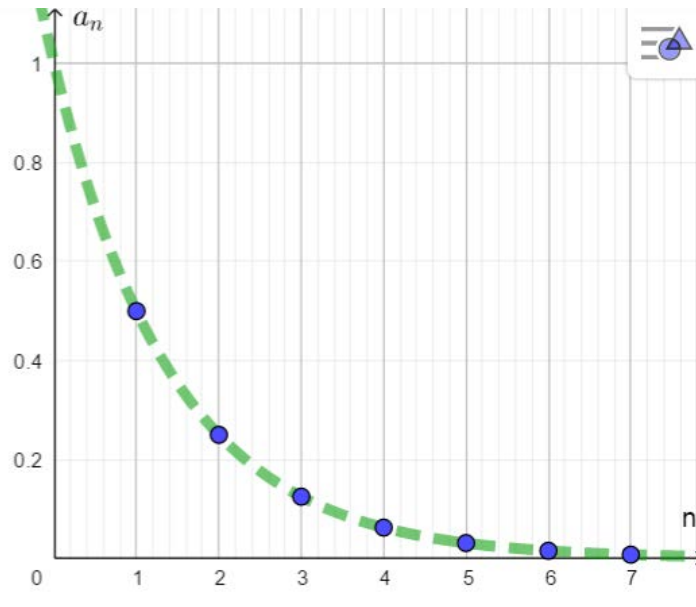


ลำดับอนันต์และอนุกรมอนันต์

1.1 ลิมิตของลำดับ

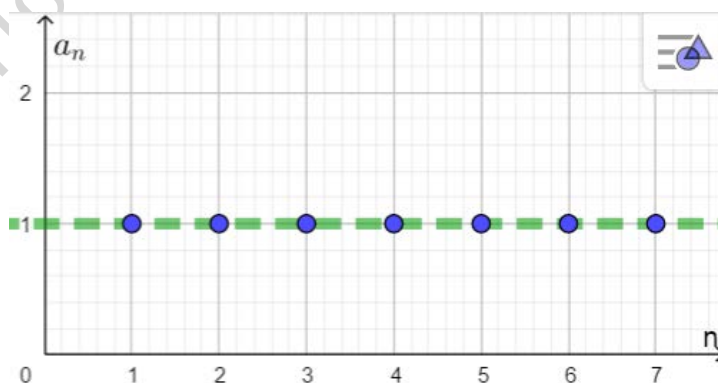
ในหัวข้อนี้จะกล่าวถึงสมบัติอย่างหนึ่งของลำดับอนันต์ ซึ่งจะเป็นประโยชน์ในการศึกษาคณิตศาสตร์ขั้นสูงขึ้นไป โดยจะพิจารณาพจน์ที่ n ของลำดับเมื่อ n มีค่ามากขึ้นโดยไม่มีที่สิ้นสุด ดังตัวอย่าง

- (1) พิจารณากราฟของลำดับ $a_n = \frac{1}{2^n}$



เส้นประที่ปรากฏในรูปกราฟของลำดับ $a_n = \frac{1}{2^n}$ เป็นเส้นที่แสดงแนวของจุดในกราฟ เมื่อพิจารณาจากกราฟและตำแหน่งของพจน์ต่างๆ บนเส้นจำนวนจะเห็นว่าถ้า n มีค่ามากขึ้นโดยไม่มีที่สิ้นสุดแล้ว a_n (พจน์ที่ n) จะมีค่าเข้าใกล้ 0

- (2) พิจารณากราฟของลำดับ $a_n = 1$



เส้นประที่ปรากฏในรูปกราฟของลำดับ $a_n = 1$ เป็นเส้นที่แสดงแนวของจุดในกราฟ เมื่อพิจารณาจากกราฟและตำแหน่งของพจน์ต่างๆ บนเส้นจำนวนจะเห็นว่าถ้า n มีค่ามากขึ้นโดยไม่มีที่สิ้นสุดแล้ว a_n (พจน์ที่ n) จะมีค่าเป็น 1 เสมอ สำหรับทุกค่าของ n

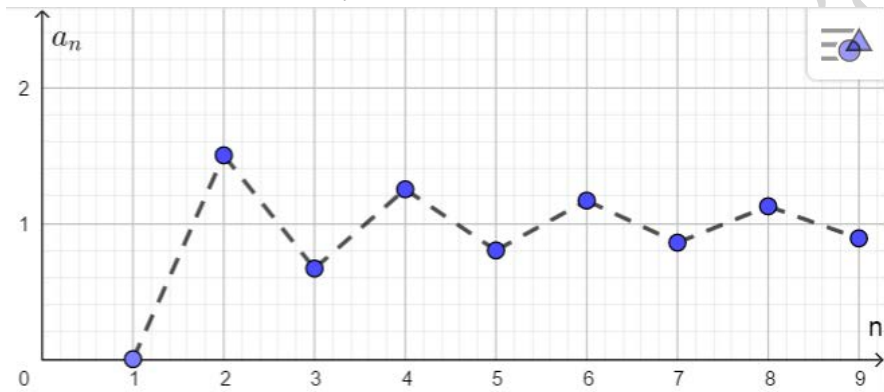
ข้อตกลง เมื่อ n มีค่ามากขึ้นโดยไม่มีที่สิ้นสุด และพจน์ที่ n มีค่าเข้าใกล้หรือเท่ากับจำนวนจริง L เพียงจำนวนเดียวเท่านั้นแล้ว จะเรียก L ว่า **ลิมิตของลำดับ** (Limit of a sequence) และจะกล่าวว่ลำดับนั้นมีลิมิตเท่ากับ L

ดังนั้น ในตัวอย่างข้างต้นจะเห็นว่า

ลำดับ $a_n = \frac{1}{2^n}$ มีลิมิตเท่ากับ 0 และ ลำดับ $a_n = 1$ มีลิมิตเท่ากับ 1

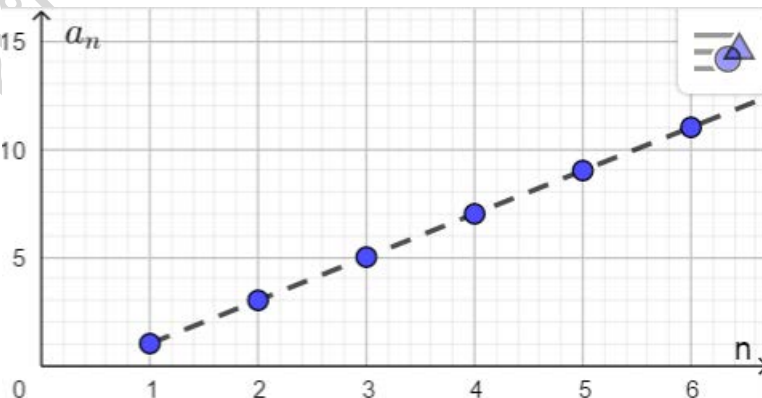
ข้อตกลง เราเรียกลำดับอนันต์ที่มีลิมิตว่า **ลำดับคอนเวอร์เจนต์** (Convergent sequence) (ลำดับลู่เข้า)

(3) พิจารณากราฟของลำดับ $a_n = 1 + \frac{(-1)^n}{n}$



เส้นประที่ปรากฏในรูปกราฟของลำดับ $a_n = 1 + \frac{(-1)^n}{n}$ เป็นเส้นที่แสดงแนวของจุดในกราฟ เมื่อพิจารณาจากกราฟและตำแหน่งของพจน์ต่างๆ บนเส้นจำนวนจะเห็นว่าถ้า n มีค่ามากขึ้นโดยไม่มีที่สิ้นสุดแล้ว a_n (พจน์ที่ n) จะมีค่าเข้าใกล้ 1 ดังนั้น $a_n = 1 + \frac{(-1)^n}{n}$ เป็นลำดับคอนเวอร์เจนต์ และมีลิมิตเท่ากับ 1

(4) พิจารณากราฟของลำดับ $a_n = 2n - 1$

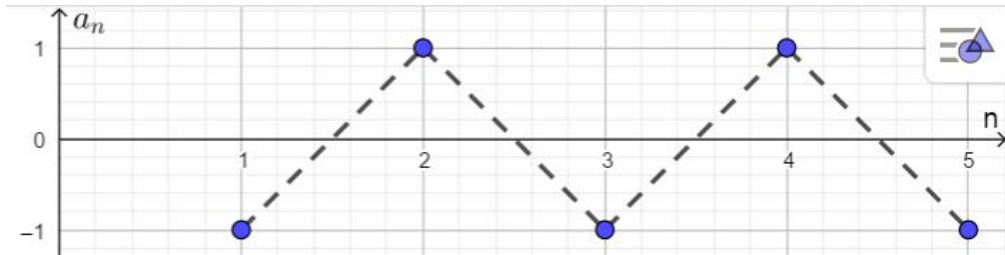


เส้นประที่ปรากฏในรูปกราฟของลำดับ $a_n = 2n - 1$ เป็นเส้นที่แสดงแนวของจุดในกราฟ เมื่อพิจารณาจากกราฟและตำแหน่งของพจน์ต่างๆ บนเส้นจำนวนจะเห็นว่าถ้า n มีค่ามากขึ้นโดยไม่มีที่สิ้นสุดแล้ว a_n (พจน์ที่ n) ของลำดับมีค่ามากขึ้นและไม่เข้าใกล้จำนวนใดจำนวนหนึ่ง จึงกล่าวได้ว่าลำดับ $a_n = 2n - 1$ ไม่มีลิมิต ลำดับนี้จึงไม่ใช่ลำดับคอนเวอร์เจนต์

ข้อตกลง เราเรียกลำดับอนันต์ที่ไม่ใช่ลำดับคอนเวอร์เจนต์ ว่า **ลำดับไดเวอร์เจนต์ (Divergent sequence)**

(ลำดับลู่ออก)

(5) พิจารณากราฟของลำดับ $a_n = (-1)^n$



เส้นประที่ปรากฏในรูปกราฟของลำดับ $a_n = (-1)^n$ เป็นเส้นที่แสดงแนวของจุดในกราฟ เมื่อพิจารณาจากกราฟและตำแหน่งของพจน์ต่างๆ บนเส้นจำนวนจะเห็นว่าถ้า n มีค่าเป็นจำนวนคี่แล้ว a_n มีค่าเป็น -1 แต่เมื่อ n มีค่าเป็นจำนวนคู่แล้ว a_n จะมีค่าเป็น 1 ดังนั้น เมื่อ n มีค่ามากขึ้นโดยไม่มีที่สิ้นสุดแล้ว พจน์ที่ n ของลำดับนี้จึงมิได้เข้าใกล้จำนวนใดจำนวนหนึ่ง ดังนั้น ลำดับ $a_n = (-1)^n$ จึงไม่มีลิมิต นั่นก็คือลำดับนี้เป็นลำดับไดเวอร์เจนต์

ข้อสังเกตเกี่ยวกับลิมิตของลำดับ

1. ลำดับที่จะนำมาพิจารณาลิมิตนั้นต้องเป็นลำดับอนันต์
2. ถ้ากล่าวหาว่า L เป็นลิมิตของลำดับที่มีพจน์ที่ n เป็น a_n หมายถึง เมื่อ n มีค่ามากขึ้นโดยไม่มีที่สิ้นสุด พจน์ที่ n ของลำดับจะมีค่าเข้าใกล้หรือเท่ากับจำนวนจริง L จำนวนเดียวเท่านั้น กล่าวได้ว่า L เป็นลิมิตของลำดับที่มีพจน์ที่ n เป็น a_n และเขียนแทนด้วยสัญลักษณ์ $\lim_{n \rightarrow \infty} a_n = L$
3. ลำดับที่มีลิมิตเรียกว่า ลำดับคอนเวอร์เจนต์ (ลำดับลู่อเข้า)
4. ลำดับที่ไม่มีลิมิตเรียกว่า ลำดับไดเวอร์เจนต์ (ลำดับลู่ออก)
5. การพิจารณาว่าลำดับใดจะมีลิมิตหรือไม่นั้น อาจทำได้โดยการวาดกราฟของลำดับและพิจารณาตำแหน่งของพจน์ที่ n ของลำดับบนเส้นจำนวน เมื่อ n มีค่ามากขึ้นโดยไม่มีที่สิ้นสุด

ตัวอย่าง จงพิจารณาว่าลำดับ $a_n = \frac{1}{n}$ เป็นลำดับคอนเวอร์เจนต์หรือลำดับไดเวอร์เจนต์ และถ้าเป็นลำดับคอนเวอร์เจนต์ จงบอกด้วยว่าลิมิตของลำดับนี้เป็นเท่าใด

1.2 ทฤษฎีบทเกี่ยวกับลิมิต

การหาลิมิตของลำดับต่างๆ นอกจากจะหาได้โดยตรงจากการพิจารณารูปของลำดับหรือตำแหน่งของพจน์ที่ n ของลำดับบนเส้นจำนวนแล้วอาจหาได้โดยอาศัยทฤษฎีบทเกี่ยวกับลิมิต ซึ่งจะกล่าวถึงและนำไปใช้โดยไม่มีการพิสูจน์

ทฤษฎีบทเกี่ยวกับลิมิตของลำดับ

ถ้า a_n และ b_n เป็นลำดับลู่เข้าและ c, k เป็นค่าคงที่แล้ว

1. limit แจกแจงได้ในเครื่องหมาย $+, -, \times, \div$
 - 1.1. $\lim_{n \rightarrow \infty} (a_n \pm b_n) = \lim_{n \rightarrow \infty} a_n \pm \lim_{n \rightarrow \infty} b_n$
 - 1.2. $\lim_{n \rightarrow \infty} (a_n \cdot b_n) = \lim_{n \rightarrow \infty} a_n \cdot \lim_{n \rightarrow \infty} b_n$
 - 1.3. $\lim_{n \rightarrow \infty} \left(\frac{a_n}{b_n} \right) = \frac{\lim_{n \rightarrow \infty} a_n}{\lim_{n \rightarrow \infty} b_n} ; \lim_{n \rightarrow \infty} b_n \neq 0$
2.
 - 2.1 $\lim_{n \rightarrow \infty} c = c$
 - 2.2 $\lim_{n \rightarrow \infty} (ca_n) = c \lim_{n \rightarrow \infty} a_n$
3. limit แจกแจงในเลขยกกำลัง และ ฟังก์ชันต่างๆ ได้
 - 3.1. $\lim_{n \rightarrow \infty} (a_n)^k = \left[\lim_{n \rightarrow \infty} (a_n) \right]^k$
 - 3.2. $\lim_{n \rightarrow \infty} \sqrt[k]{a_n} = \sqrt[k]{\lim_{n \rightarrow \infty} a_n}$
 - 3.3. $\lim_{n \rightarrow \infty} |a_n| = \left| \lim_{n \rightarrow \infty} a_n \right|$
4.
 - 4.1 $\lim_{n \rightarrow \infty} c^n = 0$ เมื่อ $|c| < 1$
 - 4.2 $\lim_{n \rightarrow \infty} c^n =$ มากจนหาค่าไม่ได้ เมื่อ $|c| > 1$
 - 4.3 $\lim_{n \rightarrow \infty} 1^n = 1$
5. ถ้า $\lim_{n \rightarrow \infty} a_n = A$ แล้ว $\lim_{n \rightarrow \infty} a_{n+1} = A$ เมื่อ A คือค่าคงที่
6.
 - 6.1 $\lim_{n \rightarrow \infty} \left(\frac{1}{n} \right) = 0$
 - 6.2 $\lim_{n \rightarrow \infty} (n) = \infty$

กรณี รูปแบบไม่กำหนด (indeterminate form) เช่น $\frac{0}{0}, \frac{\infty}{\infty}, \infty - \infty$ ให้ทำการจัดรูปก่อนหาลิมิต

ตัวอย่าง 1 จงหาขีดจำกัดของลำดับ $a_n = 5$

ตัวอย่าง 2 จงหาขีดจำกัดของลำดับ $a_n = 1 - \frac{1}{n}$ และ ขีดจำกัดของลำดับ $b_n = \frac{1}{2} \left(1 - \frac{1}{n} \right)$

ตัวอย่าง 3 จงหาขีดจำกัดของลำดับ $a_n = \left(\frac{2}{5}\right)^n$

ตัวอย่าง 4 จงหาขีดจำกัดของลำดับ $a_n = \frac{3+2n}{n}$

ตัวอย่าง 5 จงหาลิมิตของลำดับ $a_n = \frac{3n^3 - n}{5n^3 + 7}$

ตัวอย่าง 6 จงหาลิมิตของลำดับ $a_n = \frac{5^n + 3^{n+1}}{4^n + 5^{n-1}}$

ตัวอย่าง 7 จงหาลิมิตของลำดับ $a_n = \frac{3 + \sqrt{n+1}}{\sqrt{n} - 2}$

ตัวอย่าง 8 จงหาลิมิตของลำดับ $a_n = \frac{n^2 + n + 1}{2^n + 3^n}$

แบบฝึกหัด 1.1

จงเขียนสี่พจน์แรกของลำดับซึ่งกำหนดพจน์ที่ n ให้ต่อไปนี้ พร้อมทั้งตรวจสอบแต่ละลำดับว่า ลำดับใดบ้างที่เป็นลำดับคอนเวอร์เจนต์ ถ้าเป็นลำดับคอนเวอร์เจนต์ให้หาลิมิตด้วย

1)
$$a_n = \frac{2}{3n}$$

.....

.....

.....

2)
$$a_n = \frac{3n-2}{3n}$$

.....

.....

.....

3)
$$a_n = \frac{3n+5}{6}$$

.....

.....

.....

4)
$$a_n = 3\left(\frac{1}{2}\right)^n$$

.....

.....

.....

5)
$$a_n = \frac{4n^2 - 2n + 3}{n^2}$$

.....

.....

.....

6) $a_n = \frac{n}{n+1}$

.....

.....

.....

7) $a_n = \frac{4+5n}{n^2}$

.....

.....

.....

8) $a_n = n(1+(-1)^n)$

.....

.....

.....

9) $a_n = \sin\left(\frac{n\pi}{2}\right)$

.....

.....

.....

10) $a_n = \frac{1}{n} \cdot \sin\left(\frac{n\pi}{2}\right)$

.....

.....

.....

แบบฝึกหัด 1.2

จงหาลิมิตของลำดับต่อไปนี้

1) $a_n = \sqrt[3]{7} + 2$

.....

.....

.....

2) $a_n = \left(\frac{2}{3}\right)^n$

.....

.....

.....

.....

3) $a_n = \frac{3n-4}{5n+7}$

.....

.....

.....

.....

4) $a_n = \frac{3n^2+5}{4n-6}$

.....

.....

.....

.....

5) $a_n = \frac{2n-11}{n^2+9}$

.....

.....

.....

.....

6)
$$a_n = \frac{4n^2}{n^2} - \frac{1}{5}$$

.....

.....

.....

.....

7)
$$a_n = \left(\frac{n}{n+1} \right) \left(\frac{n^7 - 1}{2 - 3n^7} \right)$$

.....

.....

.....

.....

.....

8)
$$a_n = \frac{4 + 5n}{n^2}$$

.....

.....

.....

.....

.....

9)
$$a_n = \frac{25n^{200} - 50n^{75}}{75n^{125} + 5n^{200}}$$

.....

.....

.....

.....

.....

10)
$$a_n = \frac{5n^2}{2n+1} + \frac{2\sqrt{n}}{5n}$$

.....

.....

.....

.....

.....

.....

.....

.....

.....

.....

11)
$$a_n = \frac{1}{n} - \frac{2}{5n}$$

.....

.....

.....

.....

.....

.....

.....

.....

.....

.....

12)
$$a_n = \frac{n^2}{n+1} - \frac{n}{n-1}$$

.....

.....

.....

.....

.....

.....

.....

.....

.....

.....

13)
$$a_n = \frac{n^2}{n+1} - \frac{n^2}{n-1}$$

.....

.....

.....

.....

.....

.....

.....

.....

.....

.....

14)
$$a_n = \frac{\sqrt{3n+2}}{\sqrt{2n} + \sqrt{n+5}}$$

.....

.....

.....

.....

.....

.....

15)
$$a_n = \frac{5^n - 3^{n-1}}{2 \cdot 5^{n-3} + 3^n}$$

.....

.....

.....

.....

.....

.....

16)
$$a_n = \frac{5^n + n^{10}}{2 \cdot 5^n + 3^n}$$

.....

.....

.....

.....

.....

.....

17)
$$a_n = \frac{2^{2n} + 3^n + n^3}{0.5^n + n^5}$$

.....

.....

.....

.....

.....

.....

1.3 อนุกรม

นักเรียนได้ทราบถึงความสัมพันธ์ระหว่างลำดับและอนุกรมมาแล้วดังนี้

บทนิยาม เมื่อ $a_1, a_2, a_3, \dots, a_n$ เป็นลำดับจำกัด และ $a_1, a_2, a_3, \dots, a_n, \dots$ เป็นลำดับอนันต์ เรียก การแสดงผลบวกของพจน์ทุกพจน์ของลำดับ ในรูป $a_1 + a_2 + a_3 + \dots + a_n$ หรือ $a_1 + a_2 + a_3 + \dots + a_n + \dots$ ว่า อนุกรม เรียกอนุกรมที่ได้จากลำดับจำกัด ว่า “อนุกรมจำกัด” (*Finite series*) และ เรียกอนุกรมที่ได้จากลำดับอนันต์ ว่า “อนุกรมอนันต์” (*Infinite series*)

จากบทนิยาม จะได้ว่า อนุกรมที่เขียนในรูป $a_1 + a_2 + a_3 + \dots + a_n$ เป็นอนุกรมจำกัด

และ อนุกรมที่เขียนในรูป $a_1 + a_2 + a_3 + \dots + a_n + \dots$ เป็นอนุกรมอนันต์

สำหรับ อนุกรมรูป $a_1 + a_2 + a_3 + \dots + a_n$ หรือ $a_1 + a_2 + a_3 + \dots + a_n + \dots$ จะเรียกพจน์ต่างๆ ดังนี้

เรียก a_1 ว่า พจน์ที่ 1 ของลำดับ หรือพจน์แรกของลำดับ

เรียก a_2 ว่า พจน์ที่ 2 ของลำดับ

เรียก a_3 ว่า พจน์ที่ 3 ของลำดับ

...

เรียก a_n ว่า พจน์ที่ n ของลำดับ หรือ พจน์ทั่วไปของลำดับ

ตัวอย่างของอนุกรม

(1) $2 + 5 + 10 + 17 + \dots + 101$ เป็นอนุกรมจำกัด ที่ได้จากลำดับ $2, 5, 7, 10, 17, \dots, 101$

(2) $1 + 8 + 27 + 64 + \dots + 1331 + \dots$ เป็นอนุกรมอนันต์ ที่ได้จากลำดับ $1, 8, 27, 64, \dots, 1331, \dots$

สัญลักษณ์แทนการบวก (*Summation Notation*)

เพื่อความสะดวกในการเขียนอนุกรม จะใช้อักษรกรีก Σ (*sigma*) อ่านว่า “ซิกมา” เป็นสัญลักษณ์แทนการบวก

โดยจะเขียนแทน $a_1 + a_2 + a_3 + \dots + a_n$ ด้วย $\sum_{i=1}^n a_i$ (อ่านว่า การบวก a_i เมื่อ $i=1$ ถึง $i=n$)

และเขียนแทน $a_1 + a_2 + a_3 + \dots + a_n + \dots$ ด้วย $\sum_{i=1}^{\infty} a_i$ (อ่านว่า การบวก a_i เมื่อ $i=1$ ขึ้นไป)

ตัวอย่าง

1) $\sum_{x=0}^5 (2x+1) =$

2) $\sum_{y=4}^8 2^y =$

3) $\sum_{i=1}^{\infty} 2 =$

4) $\sum_{t=1}^{\infty} t^t =$

อนุกรมใดก็ตามที่เป็นอนุกรมจำกัด อนุกรมนั้นย่อมแทนได้ด้วยจำนวนใดจำนวนหนึ่ง เช่น

1) $\sum_{i=1}^4 (2i+1) =$

2) $\sum_{k=1}^5 (k^2-1)^2 =$

สมบัติของ \sum (Sigma)

เมื่อ k เป็นค่าคงตัว

1. $\sum_{i=1}^n k = kn$

4. $\sum_{i=1}^n i = \frac{n}{2}(n+1)$

2. $\sum_{i=1}^n ka_n = k \sum_{i=1}^n a_n$

5. $\sum_{i=1}^n i^2 = \frac{n}{6}(n+1)(2n+1)$

3. $\sum_{i=1}^n (a_n \pm b_n) = \sum_{i=1}^n a_n \pm \sum_{i=1}^n b_n$

6. $\sum_{i=1}^n i^3 = \left(\frac{n}{2}(n+1)\right)^2 = \left(\sum_{i=1}^n i\right)^2$

พิสูจน์ (เหมาะสำหรับนักเรียนที่สนใจ)

1) จะพิสูจน์ว่าเพราะเหตุใด $\sum_{i=1}^n i = \frac{n}{2}(n+1)$

เนื่องจาก $\sum_{i=1}^n i = 1 + 2 + 3 + \dots + (n-2) + (n-1) + n$ -----(1)

หรือ $\sum_{i=1}^n i = n + (n-1) + (n-2) + \dots + 3 + 2 + 1$ -----(2)

(1)+(2) จะได้ $2\sum_{i=1}^n i = \underbrace{(n+1) + (n+1) + (n+1) + \dots + (n+1)}_{n \text{ terms}}$

จะได้ $2\sum_{i=1}^n i = n(n+1)$

นั่นคือ $\sum_{i=1}^n i = \frac{n}{2}(n+1)$

2) จะพิสูจน์ว่าเพราะเหตุใด $\sum_{x=1}^n x^2 = \frac{n}{6}(n+1)(2n+1)$

เนื่องจาก $\sum_{x=1}^n x^2 = 1^2 + 2^2 + 3^2 + \dots + n^2$

พิจารณา $(x+1)^3 - x^3 = \cancel{x^3} + 3x^2 + 3x + 1 - \cancel{x^3}$

นั่นคือ $(x+1)^3 - x^3 = 3x^2 + 3x + 1$ -----(*)

แทน $x=1$ ใน(*) จะได้ $2^3 - 1^3 = 3(1)^2 + 3(1) + 1$ -----(1)

แทน $x=2$ ใน(*) จะได้ $3^3 - 2^3 = 3(2)^2 + 3(2) + 1$ -----(2)

แทน $x=3$ ใน(*) จะได้ $4^3 - 3^3 = 3(3)^2 + 3(3) + 1$ -----(3)

...

แทน $x=n$ ใน(*) จะได้ $(n+1)^3 - n^3 = 3(n)^2 + 3(n) + 1$ -----(n)

(1)+(2)+(3)+...+(n) จะได้

$$(n+1)^3 - 1 = 3(1^2 + 2^2 + 3^2 + \dots + n^2) + 3(1+2+3+\dots+n) + \underbrace{(1+1+1+\dots+1)}_{n \text{ terms}}$$

จะได้ $(n+1)^3 - 1 = 3\left(\sum_{x=1}^n x^2\right) + 3\left(\frac{n}{2}(n+1)\right) + (n)$

$$3\left(\sum_{x=1}^n x^2\right) = (n+1)^3 - 1 - 3\left(\frac{n}{2}(n+1)\right) - (n)$$

$$3\left(\sum_{x=1}^n x^2\right) = (n+1)^3 - 3\left(\frac{n}{2}(n+1)\right) - (n+1)$$

$$3\left(\sum_{x=1}^n x^2\right) = (n+1)\left((n+1)^2 - 3\left(\frac{n}{2}\right) - 1\right)$$

$$3\left(\sum_{x=1}^n x^2\right) = (n+1)\left(n^2 + 2n - 1 - \frac{3n}{2} - 1\right)$$

$$3\left(\sum_{x=1}^n x^2\right) = (n+1)\left(n^2 + \frac{1}{2}n\right)$$

$$3\left(\sum_{x=1}^n x^2\right) = n(n+1)\left(n + \frac{1}{2}\right)$$

$$3\left(\sum_{x=1}^n x^2\right) = \frac{n}{2}(n+1)(2n+1)$$

นั่นคือ $\sum_{x=1}^n x^2 = \frac{n}{6}(n+1)(2n+1)$

3) จะพิสูจน์ว่าเพราะเหตุใด $\sum_{x=1}^n x^3 = \left(\frac{n}{2}(n+1)\right)^2 = \left(\sum_{x=1}^n x\right)^2$

เนื่องจาก $\sum_{x=1}^n x^3 = 1^3 + 2^3 + 3^3 + \dots + n^3$

พิจารณา $(x+1)^4 - x^4 = \cancel{x^4} + 4x^3 + 6x^2 + 4x + 1 - \cancel{x^4}$

นั่นคือ $(x+1)^4 - x^4 = 4x^3 + 6x^2 + 4x + 1$ -----(*)

แทน $x=1$ ใน(*) จะได้ $2^4 - 1^4 = 4(1)^3 + 6(1)^2 + 4(1) + 1$ -----(1)

แทน $x=2$ ใน(*) จะได้ $3^4 - 2^4 = 4(2)^3 + 6(2)^2 + 4(2) + 1$ -----(2)

แทน $x=3$ ใน(*) จะได้ $4^4 - 3^4 = 4(3)^3 + 6(3)^2 + 4(3) + 1$ -----(3)

...

แทน $x=n$ ใน(*) จะได้ $(n+1)^4 - n^4 = 4(n)^3 + 6(n)^2 + 4(n) + 1$ -----(n)

(1)+(2)+(3)+...+(n) จะได้

$$(n+1)^4 - 1 = 4 \left(\sum_{x=1}^n x^3 \right) + 6 \left(\sum_{x=1}^n x^2 \right) + 4 \left(\sum_{x=1}^n x \right) + \left(\sum_{x=1}^n 1 \right)$$

$$(n+1)^4 - 1 = 4 \left(\sum_{x=1}^n x^3 \right) + \cancel{6} \left(\frac{n}{\cancel{6}}(n+1)(2n+1) \right) + 4 \left(\frac{n}{2}(n+1) \right) + (n)$$

$$(n+1)^4 = 4 \left(\sum_{x=1}^n x^3 \right) + n(n+1)(2n+1) + 2n(n+1) + (n+1)$$

$$4 \left(\sum_{x=1}^n x^3 \right) = (n+1)^4 - n(n+1)(2n+1) - 2n(n+1) - (n+1)$$

$$4 \left(\sum_{x=1}^n x^3 \right) = (n+1) \left((n+1)^3 - n(2n+1) - 2n - 1 \right)$$

$$4 \left(\sum_{x=1}^n x^3 \right) = (n+1) \left(n^3 + 3n^2 + \cancel{3n} + \cancel{1} - 2n^2 - \cancel{n} - 2n - \cancel{1} \right)$$

$$4 \left(\sum_{x=1}^n x^3 \right) = (n+1)(n^3 + n^2)$$

$$4 \left(\sum_{x=1}^n x^3 \right) = n^2(n+1)(n+1)$$

$$\sum_{x=1}^n x^3 = \frac{n^2(n+1)^2}{4}$$

นั่นคือ
$$\sum_{x=1}^n x^3 = \left(\frac{n(n+1)}{2} \right)^2 = \left(\sum_{x=1}^n x \right)^2$$

1.4 ผลบวกของอนุกรมอนันต์

ผลบวกของพจน์ทุกพจน์ของอนุกรมจำกัดย่อมหาค่าได้แน่นอนเสมอแม้ว่าจะหาไม่ได้โดยใช้สูตร ก็อาจจะหาได้โดยการบวกทีละพจน์ (ซึ่งหากมีจำนวนพจน์มากอาจจะต้องใช้เวลาในการบวกมากด้วย) ส่วนอนุกรมอนันต์การจะหาผลบวกของพจน์ทุกพจน์ให้ได้ค่าที่แน่นอนย่อมทำได้ยากทั้งนี้เพราะไม่อาจหาพจน์สุดท้ายได้

พิจารณาอนุกรม $a_1 + a_2 + a_3 + \dots + a_n + \dots$

ถ้าให้ S_n เป็นผลบวก n พจน์แรกของอนุกรม จะได้

$$S_1 = a_1$$

$$S_2 = a_1 + a_2$$

$$S_3 = a_1 + a_2 + a_3$$

...

$$S_n = a_1 + a_2 + a_3 + \dots + a_n$$

เรียก s_1, s_2, s_3, \dots หรือ $(a_1), (a_1 + a_2), (a_1 + a_2 + a_3), \dots$ แต่ละจำนวนว่า **ผลบวกย่อย (partial sum)**

ของอนุกรม $a_1 + a_2 + a_3 + \dots$

และเรียก $s_1, s_2, s_3, \dots, s_n, \dots$ ว่า **ลำดับผลบวกย่อยของอนุกรม**

เช่น จากอนุกรม $\frac{1}{10} + \frac{1}{100} + \frac{1}{1000} + \dots + \frac{1}{10^n} + \dots$ จะได้

$$S_1 = \frac{1}{10}$$

$$S_2 = \frac{1}{10} + \frac{1}{100} = \frac{11}{100}$$

$$S_3 = \frac{1}{10} + \frac{1}{100} + \frac{1}{1000} = \frac{11}{100} + \frac{1}{1000} = \frac{111}{1000}$$

...

$$S_n = \frac{1}{10} + \frac{1}{100} + \frac{1}{1000} + \dots + \frac{1}{10^n} = \frac{10^n - 1}{9(10^n)}$$

ลำดับผลบวกย่อยของอนุกรม $\frac{1}{10} + \frac{1}{100} + \frac{1}{1000} + \dots$ คือ $\frac{1}{10}, \frac{11}{100}, \frac{111}{1000}, \dots, \frac{10^n - 1}{9(10^n)}, \dots$

เมื่อหาลิมิตของลำดับนี้ จะได้ $\lim_{n \rightarrow \infty} \left(\frac{10^n - 1}{9(10^n)} \right) = \frac{1}{9} \lim_{n \rightarrow \infty} \left(\frac{10^n - 1}{10^n} \right) = \frac{1}{9} \lim_{n \rightarrow \infty} \left(1 - \frac{1}{10^n} \right) = \frac{1}{9}$

จากตัวอย่างจะเห็นว่า $\frac{1}{9}$ เป็น ลิมิตของลำดับผลบวกย่อยของอนุกรม $\frac{1}{10} + \frac{1}{100} + \frac{1}{1000} + \dots + \frac{1}{10^n} + \dots$

เรียก $\frac{1}{9}$ ว่าเป็น **ผลบวกของอนุกรมอนันต์** นี้

ถ้าพิจารณาอนุกรม $1 - 1 + 1 - 1 + \dots + (-1)^{n-1} + \dots$ จะได้ ลำดับของผลบวกย่อยของอนุกรมนี้คือ

$1, 0, 1, 0, \dots$ ซึ่งเห็นได้ว่า ลำดับนี้ไม่มีลิมิต จึงถือว่า หาผลบวกของอนุกรมนี้ไม่ได้

ดังนั้น จึงให้นิยามผลบวกของอนุกรมอนันต์ ดังนี้

บทนิยาม ผลบวกของอนุกรมอนันต์ใด คือ ลิมิตของลำดับผลบวกย่อยของอนุกรมอนันต์ เมื่อลำดับนั้นมีลิมิต

สำหรับอนุกรมอนันต์ที่ สามารถหาผลบวกได้ เรียกว่า **อนุกรมคอนเวอร์เจนต์** และเรียก อนุกรมอนันต์ที่ ไม่สามารถหาผลบวกได้ ว่า **อนุกรมไดเวอร์เจนต์**

ตัวอย่าง 9 จงพิจารณาว่า อนุกรม $\frac{1}{2} + \frac{1}{4} + \frac{1}{8} + \frac{1}{16} + \dots + \frac{1}{2^n} + \dots$ เป็นอนุกรมคอนเวอร์เจนต์หรืออนุกรมไดเวอร์เจนต์ และถ้าเป็นอนุกรมคอนเวอร์เจนต์ จงหาผลบวกของอนุกรมนี้

ตัวอย่าง 10 จงพิจารณาว่า $\sum_{i=1}^{\infty} (2i-1)$ เป็นอนุกรมคอนเวอร์เจนต์หรืออนุกรมไดเวอร์เจนต์ และถ้าเป็นอนุกรมคอนเวอร์เจนต์ จงหาผลบวกของอนุกรมนี้

จากตัวอย่างข้างต้นจะเห็นว่า การแสดงว่าอนุกรมอนันต์ใดจะเป็นอนุกรมคอนเวอร์เจนต์หรืออนุกรมไดเวอร์เจนต์ทำได้ดังนี้

1) หาลำดับผลบวกย่อยของอนุกรม

2) พิจารณาลิมิตของลำดับผลบวกย่อย ถ้าลำดับผลบวกย่อยนั้นมีลิมิต จะได้ว่าอนุกรมนี้เป็นอนุกรมคอนเวอร์เจนต์ แต่ถ้าลำดับผลบวกย่อยนั้นไม่มีลิมิต จะได้ว่าอนุกรมนี้เป็นอนุกรมไดเวอร์เจนต์

ข้อสังเกต ผลบวกของอนุกรมอนันต์ คือ $a_1 + a_2 + a_3 + \dots + a_n + \dots = \sum_{n=1}^{\infty} (a_n) = \lim_{n \rightarrow \infty} (S_n)$

ในกรณีที่อนุกรมอนันต์เป็นอนุกรมเรขาคณิต จาก $a_1 + a_1r + a_1r^2 + \dots + a_1r^{n-1} + \dots$

เมื่อพิจารณาที่ อัตราส่วนร่วม (r) จะแบ่งได้เป็น 2 กรณี คือ $|r|=1$, $|r| \neq 1$

กรณี $|r|=1$ พิจารณาลำดับของผลบวกย่อยของอนุกรม

ถ้า $r=1$ จะได้ลำดับผลบวกย่อยของอนุกรมเป็น (a_1) , $(a_1 + a_2)$, $(a_1 + a_2 + a_3)$, ...

ซึ่งก็คือ a_1 , $2a_1$, $3a_1$, ... , na_1 , ... นั่นคือไม่มีลิมิต

ถ้า $r=-1$ จะได้ลำดับผลบวกย่อยของอนุกรมเป็น (a_1) , $(a_1 + a_2)$, $(a_1 + a_2 + a_3)$, ...

ซึ่งก็คือ a_1 , 0 , a_1 , 0 , ... นั่นคือไม่มีลิมิต

กรณี $|r| \neq 1$ จะได้ $S_n = \frac{a_1(1-r^n)}{1-r} = \frac{a_1}{1-r} - \frac{a_1r^n}{1-r}$

ถ้า $|r| > 1$ เมื่อ n มีค่ามากขึ้นโดยไม่มีที่สิ้นสุด r^n จะเข้าใกล้อนันต์

จะได้ $\lim_{n \rightarrow \infty} (S_n) = \lim_{n \rightarrow \infty} \left(\frac{a_1}{1-r} - \frac{a_1r^n}{1-r} \right) = -\infty$ นั่นคือไม่มีลิมิต

ถ้า $|r| < 1$ เมื่อ n มีค่ามากขึ้นโดยไม่มีที่สิ้นสุด r^n จะเข้าใกล้ 0

จะได้ $\lim_{n \rightarrow \infty} (S_n) = \lim_{n \rightarrow \infty} \left(\frac{a_1}{1-r} - \frac{a_1r^n}{1-r} \right) = \lim_{n \rightarrow \infty} \left(\frac{a_1}{1-r} \right) = \frac{a_1}{1-r}$

นั่นคือ ลิมิตของลำดับผลบวกย่อยของอนุกรมเรขาคณิต เมื่อ $|r| < 1$ คือ $\frac{a_1}{1-r}$

ข้อสรุปเกี่ยวกับอนุกรมอนันต์ ที่เป็น อนุกรมเรขาคณิต

เมื่อ a_1 เป็นพจน์แรกของอนุกรม และ r เป็นอัตราส่วนร่วมของอนุกรมนี้

1) ถ้า $|r| \geq 1$ แล้วอนุกรมนี้เป็นอนุกรมไดเวอร์เจนต์

2) ถ้า $|r| < 1$ แล้วอนุกรมนี้เป็นอนุกรมคอนเวอร์เจนต์ และถ้าให้ S เป็นผลบวกของอนุกรม

เรขาคณิตที่เป็นอนุกรมคอนเวอร์เจนต์ จะได้ $S = \lim_{n \rightarrow \infty} (S_n) = \frac{a_1}{1-r}$

ตัวอย่าง 11 จงหาผลบวกของอนุกรม $16+12+9+\dots+16\left(\frac{3}{4}\right)^{n-1}+\dots$

แบบฝึกหัด 1.3

1) จงพิจารณาอนุกรมในแต่ละข้อต่อไปนี้ ว่าเป็นอนุกรมคอนเวอร์เจนต์หรืออนุกรมไดเวอร์เจนต์ และถ้าเป็นอนุกรมคอนเวอร์เจนต์ จงหาผลบวกของอนุกรมด้วย

1.1) $\frac{1}{2} + \frac{1}{6} + \frac{1}{18} + \dots + \frac{1}{2} \cdot \left(\frac{1}{3}\right)^{n-1} + \dots$

.....

.....

.....

1.2) $3 + 2 + \frac{4}{3} + \dots + 3 \cdot \left(\frac{2}{3}\right)^{n-1} + \dots$

.....

.....

.....

1.3) $\frac{2}{3} + \frac{10}{3} + \frac{50}{3} + \dots + \frac{2}{3} \cdot (5)^{n-1} + \dots$

.....

.....

.....

1.4) $-\frac{1}{2} + \frac{1}{4} - \frac{1}{8} + \dots + \left(-\frac{1}{2}\right)^n + \dots$

.....

.....

.....

1.5) $3+3+3+\dots$

.....

.....

.....

1.6) $2+(-1)+(-4)+\dots+(5-3n)+\dots$

.....

.....

.....

1.7) $\frac{2}{5} + \frac{4}{25} + \frac{8}{125} + \dots + \left(\frac{2}{5}\right)^n + \dots$

.....

.....

.....

1.8) $1 + \frac{2}{5} + \frac{4}{25} + \frac{8}{125} + \dots + \left(\frac{2}{5}\right)^{n-1} + \dots$

.....

.....

.....

1.9) $\frac{4}{25} + \frac{8}{125} + \frac{16}{625} + \dots + \left(\frac{2}{5}\right)^{n+1} + \dots$

.....

.....

.....

1.10) $2+5+10+\dots+(n^2+1)+\dots$

.....

.....

.....

1.11) $-1+0+9+\dots+(n^3-2n^2)+\dots$

.....

.....

.....

1.12) $\frac{1}{10} - \frac{1}{100} + \frac{1}{1,000} - \frac{1}{10,000} + \dots + \frac{1}{10} \cdot \left(-\frac{1}{10}\right)^{n-1} + \dots$

.....

.....

.....

1.13) $100 + 10 + 1 + 0.1 + \dots$

.....

.....

.....

1.14) $1 + 10 + 100 + 1,000 + \dots$

.....

.....

.....

2) อนุกรม $1 - 2 + 3 - 4 + 5 - 6 + \dots$ เป็นอนุกรมใดเวอร์เจนต์หรืออนุกรมคอนเวอร์เจนต์

.....

.....

.....

3) จงหาค่าของ x ถ้า $1 + x + x^2 + x^3 + \dots = \frac{2}{3}$

.....

.....

.....

4) จงหาค่าของ a_1 และ r เมื่อ $a_1 + a_1r + a_1r^2 + a_1r^3 + \dots = \frac{2}{3}$

และ $a_1 - a_1r + a_1r^2 - a_1r^3 + \dots = \frac{3}{4}$

.....

.....

.....

.....

- 5) รูปสามเหลี่ยมด้านเท่ารูปหนึ่งมีด้านยาวด้านละ 10 นิ้ว รูปสามเหลี่ยมด้านเท่ารูปที่สองเกิดจากการต่อจุดกึ่งกลางด้านทั้งสามของรูปสามเหลี่ยมด้านเท่ารูปแรก และ รูปสามเหลี่ยมด้านเท่ารูปที่สามเกิดจากการต่อจุดกึ่งกลางด้านทั้งสามของรูปสามเหลี่ยมด้านเท่ารูปที่สอง เช่นนี้เรื่อยๆ ไป จงหาผลบวกความยาวของเส้นรอบรูปของรูปสามเหลี่ยมทั้งหมด ถ้ากระบวนการนี้เกิดต่อเนื่องไปไม่มีที่สิ้นสุด

.....

.....

.....

.....

.....

.....

.....

.....

.....

.....

.....

.....

.....

.....

.....

.....

.....

.....

.....

.....

.....

- 6) ปล່อยลูกบอลลูกหนึ่งสูงจากพื้น 2 เมตร ทุกครั้งที่ลูกบอลกระดอนขึ้นลูกบอลจะลอยสูงขึ้นเป็นระยะ 3 ใน 5 ของความสูงเดิม จงหาระยะทางทั้งหมดที่ลูกบอลเคลื่อนที่จนกระทั่งหยุดนิ่ง

.....

.....

.....

.....

.....

.....

.....

.....

.....

.....

.....

.....

.....

.....

.....

.....

.....

.....

.....

.....

1.5 ทศนิยมซ้ำกับเศษส่วน

เราสามารถเขียนแทนทศนิยมซ้ำ (*repeating decimal*) ให้อยู่ในรูปเศษส่วน (*fraction*) โดยใช้ความรู้เรื่องอนุกรมอนันต์ ดังตัวอย่างต่อไปนี้

ตัวอย่าง 12 จงหา $0.\overline{7}$ ให้อยู่ในรูปเศษส่วน

ตัวอย่าง 13 จงหา $5.4\overline{27}$ ให้อยู่ในรูปเศษส่วน

แบบฝึกหัด 1.4

จงเขียนจำนวนต่อไปนี้ให้อยู่ในรูปของเศษส่วน

1) $0.\dot{1}8$

.....
.....

2) $0.1\dot{2}3\dot{4}$

.....
.....

3) $9.8\dot{7}$

.....
.....

4) $1.3\dot{5}\dot{7}$

.....
.....

5) $0.159\dot{2}$

.....
.....

6) $0.\dot{9}$

.....
.....

7) $4.\dot{9}$

.....
.....

8) $1.72\dot{9}$

.....
.....

1.6 อนุกรมเทเลสโคปิก

เทคนิคการ “ส่อง” พจน์รอบข้างมาหักล้างกัน (*Telescope* = กล้องส่อง) โดยการจัดรูปแต่ละพจน์ในอนุกรมให้เป็น “ผลลบ” โดยเมื่อแยกเป็นผลลบได้แล้ว เราจะหวังว่า พจน์คู่ที่อยู่ติดกันจะมีบางตัวตัดกันได้

วิธีจัดรูปพจน์ให้เป็นผลลบ จะมีอยู่ 2 วิธี คือ การใช้คอนจูเกต กับ การแยกเศษส่วน

รูปแบบการแยกเศษส่วนที่เจอบ่อย

$$\frac{1}{ab} = \left(\frac{1}{a} - \frac{1}{b}\right) \cdot \left(\frac{1}{b-a}\right), \quad \frac{1}{abc} = \left(\frac{1}{ab} - \frac{1}{bc}\right) \cdot \left(\frac{1}{c-a}\right), \quad \frac{1}{abcd} = \left(\frac{1}{abc} - \frac{1}{bcd}\right) \cdot \left(\frac{1}{d-a}\right)$$

ตัวอย่าง 14 จงหาค่าของ $\sum_{i=1}^{99} \frac{1}{\sqrt{i+1} + \sqrt{i}}$

ตัวอย่าง 15 จงหาค่าของ $\sum_{i=1}^{\infty} \frac{1}{(i)(i+1)}$

แบบฝึกหัด 1.5

1) จงหาผลบวกของอนุกรมต่อไปนี้

$$1.1) \frac{1}{1 \cdot 2} + \frac{1}{2 \cdot 3} + \frac{1}{3 \cdot 4} + \dots + \frac{1}{n(n+1)} + \dots$$

.....

.....

.....

.....

.....

.....

.....

.....

.....

.....

$$1.2) \frac{1}{1 \cdot 3} + \frac{1}{3 \cdot 5} + \frac{1}{5 \cdot 7} + \dots + \frac{1}{(2n-1)(2n+1)} + \dots$$

.....

.....

.....

.....

.....

.....

.....

.....

.....

.....

$$1.3) \frac{1}{1 \cdot 4} + \frac{1}{4 \cdot 7} + \frac{1}{7 \cdot 10} + \dots + \frac{1}{(3n-2)(3n+1)} + \dots$$

.....

.....

.....

.....

.....

.....

.....

.....

.....

.....

1.4) $\frac{3}{1^2 \cdot 2^2} + \frac{5}{2^2 \cdot 3^2} + \frac{7}{3^2 \cdot 4^2} + \dots$

.....

.....

.....

.....

.....

.....

.....

.....

.....

.....

.....

.....

.....

.....

.....

.....

.....

.....

.....

.....

1.5) $\frac{1}{1 \cdot 2 \cdot 3} + \frac{1}{2 \cdot 3 \cdot 4} + \frac{1}{3 \cdot 4 \cdot 5} + \dots + \frac{1}{n(n+1)(n+2)} + \dots$

.....

.....

.....

.....

.....

.....

.....

.....

.....

.....

.....

.....

.....

.....

.....

.....

.....

.....

.....

.....

.....

2) จงหาผลบวก n พจน์แรกของอนุกรมต่อไปนี้

2.1) $1 \cdot 2 + 2 \cdot 3 + 3 \cdot 4 + \dots + n(n+1)$

.....

.....

.....

.....

.....

.....

.....

.....

.....

.....

2.2) $1 \cdot 2 \cdot 3 + 2 \cdot 3 \cdot 4 + 3 \cdot 4 \cdot 5 + \dots + n(n+1)(n+2)$

.....

.....

.....

.....

.....

.....

.....

.....

.....

.....

.....

2.3) $1^2 + 3^2 + 5^2 + \dots + (2n-1)^2$

.....

.....

.....

.....

.....

.....

.....

.....

.....

.....

3) ถ้าพจน์ที่ n ของอนุกรมหนึ่งเป็น $n^3 + 3^n$ จงหาผลบวก 10 พจน์แรกของอนุกรมนี้

.....

.....

.....

.....

.....

.....

.....

.....

.....

.....

.....

.....

4) จงหาผลบวกของอนุกรมต่อไปนี้

4.1) $1 + \frac{2}{2} + \frac{3}{4} + \frac{4}{8} + \dots$

.....

.....

.....

.....

.....

.....

.....

.....

.....

.....

4.2) $1 - \frac{2}{3} + \frac{3}{9} - \frac{4}{27} + \dots$

.....

.....

.....

.....

.....

.....

.....

.....

.....

.....

4.3) $1 + \frac{3}{4} + \frac{5}{16} + \frac{7}{64} + \dots$

.....

.....

.....

.....

.....

.....

.....

.....

.....

.....